

7. İSTANBUL ZEKÂ OLİMPİYATI ÖN ELEME SORULARI

1. “**MUHABİR**” sözcüğünü oluşturan harfler “**2375981**” rakamlarıyla gösterilmiştir. Buna göre sırasıyla “**İHBAR**” ve “**BAHRİ**” sözcükleri hangi rakamlarla gösterilir?

- A) 89715 – 97581 B) 95718 – 87915 C) 87951 – 95718 D) 87951 – 95871

2. Bir banka soygununa karıştıkları gerekçesiyle üç şüpheli gözaltına alınır. Şüpheliler aynı anda, farklı mekânlarda ifadelerini alan polisler şunları söylerler:

A: “B ve C’den birisi suçludur.”

B: “A ve C’den birisi soyguna karışmamıştır.”

C: “A ve B suçsuzdur. Soygunu ben, tek başıma yaptım.”

Bu üç şüpheliden birisi yalan söylediğine göre, soygunu yapan kişi ya da kişiler kimlerdir?

- A) A ve B B) B ve C C) Yalnızca B D) Yalnızca C

3. Bir atletizm turnuvasında dereceye giren (1.,2., 3. veya 4. Olan) atletlerin isimleri Arif, Cem, Erol ve Koray’dır. (İsimler karışık olarak verilmiştir.) Bu atletlerin boy uzunlukları (Sırasız olarak) 1.70 cm, 1.75 cm, 1.80 cm, 1.85 cm’dır. Bu dört atletle ilgili bilinen diğer bilgiler şunlardır:

- 4. olan atletin boyu 1.70 cm’dir
- 1.80 cm’den daha kısa olan Koray, Erol’dan daha iyi bir derece yapmıştır.
- Cem, 2. Olan Arif’ten 5 cm daha uzundur.
- Turnuvada 3. olan atletin boyu 1.75 cm değildir.

Yukarıda verilen bilgilere göre atletlerin boy uzunlukları hangi seçenekte doğru verilmiştir?

A)

Arif	Cem	Erol	Koray
1.80	1.85	1.75	1.70

B)

Arif	Cem	Erol	Koray
1.75	1.80	1.85	1.70

C)

Arif	Cem	Erol	Koray
1.85	1.80	1.70	1.75

D)

Arif	Cem	Erol	Koray
1.80	1.85	1.70	1.75

4. "AR" sözcüğü aşağıdaki ikili harf gruplarından hangisinin ortasında yer aldığına anlamlı başka bir sözcük oluşmaz?

A) M T

B) Ş T

C) Y Z

D) T Z

5. LİMON – MANGO – NAR – REZENE – ?



Yukarıdaki sözcükler belirli bir kurala göre birbirini takip etmektedir. Bu kurala göre, soru işaretinin olduğu yere aşağıdaki sözcüklerden hangisi getirilmelidir?

A) ERİK

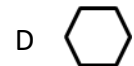
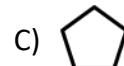
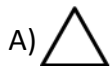
B) ZEYTİN

C) NANE


D) ROKA

6. K - T -  - I - L - ? - V - M - 

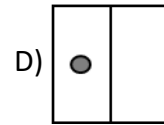
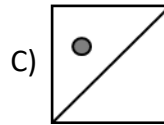
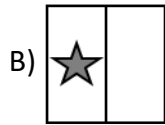
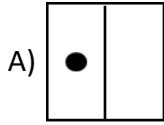
Yukarıdaki soru işaretinin olduğu yere aşağıdaki şekillerden hangisi getirilmelidir?



7.




Yukarıdaki şemada soru işaretinin olduğu yere aşağıdaki şekillerden hangisi getirilmelidir?

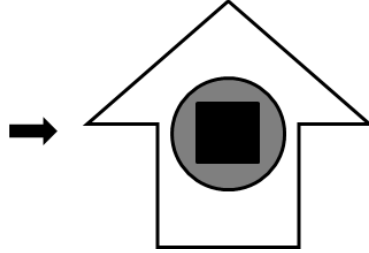


8.


1. Şekil




2. Şekil



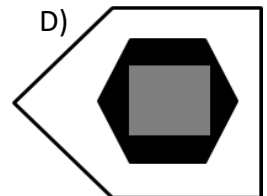
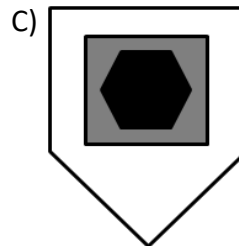
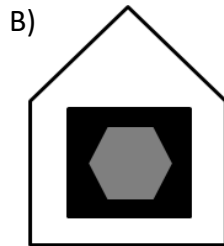
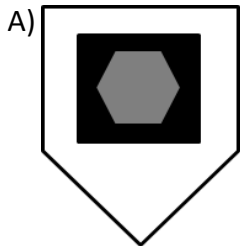
3. Şekil



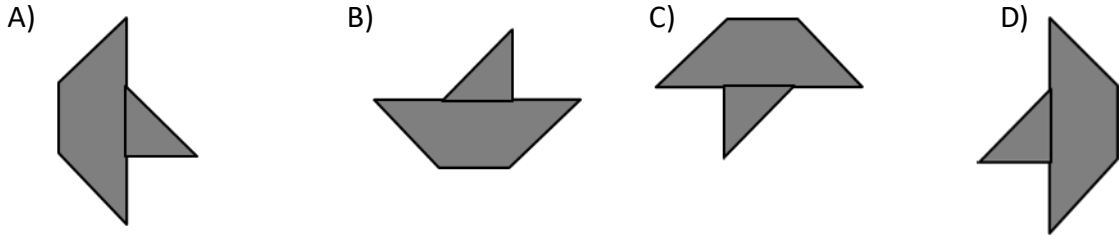
4. Şekil



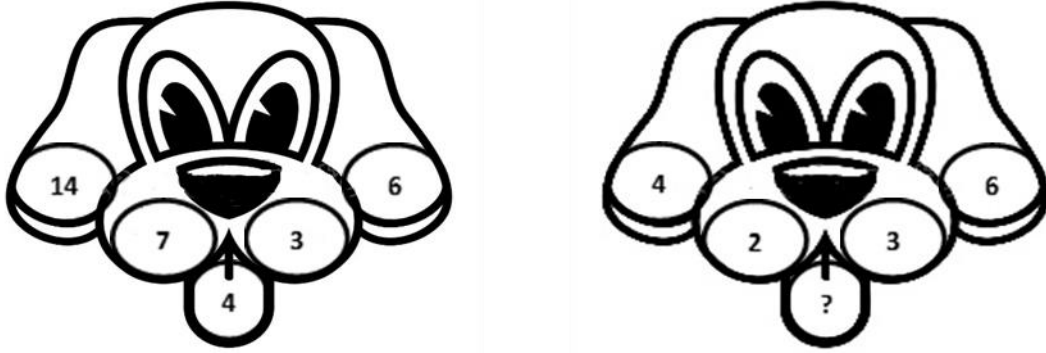
Yukarıdaki 1. Şekil ile 2. Şekil arasındaki ilişkiyi düşündüğünüzde, 3. Şekil'e karşılık gelen 4. Şekil aşağıdakilerden hangisi olabilir?



9. Aşağıdaki şekillerden hangisi diğer şekillere göre farklıdır?



10.



Yukarıdaki resimde soru işaretinin olduğu yere aşağıdaki sayılardan hangisi getirilmelidir?

A) 2

B) 3

C) 4

D)